

KİTAPÇIK TÜRÜ

A



T.C.

MİLLÎ EĞİTİM BAKANLIĞI
ÖLÇME, DEĞERLENDİRME VE SINAV HİZMETLERİ
GENEL MÜDÜRLÜĞÜ

EMNİYET GENEL MÜDÜRLÜĞÜ POLİS AKADEMİSİ BAŞKANLIĞI
ÇARŞI VE MAHALLE BEKÇİLİĞİ YAZILI SINAVI
20 EKİM 2018

Adayın Adı ve Soyadı :

Aday Numarası (T.C. Kimlik No) :

KONULAR	SORU SAYISI	TOPLAM SORU SAYISI	SINAV SÜRESİ (DAKİKA)
Türkçe	20	100	120
Sosyal Bilgiler	15		
Fen Bilgisi	15		
Hayat Bilgisi	15		
Matematik	15		
Genel Kültür	20		

ADAYLARIN DİKKATİNE!

1. Sınav saat **10.00'**da başlayacaktır. Sınav başladıktan sonra ilk **30** dakika tamamlanmadan dışarı çıkmayınız.
2. Sınav sırasında çanta, cep telefonu, saat, kablosuz iletişim sağlayan cihazlar ve kulaklık, kolye, küpe, bilezik, yüzük, broş ve benzeri eşyalar ile her türlü elektronik ve/veya mekanik cihazları yanınızda bulundurmayınız. Bu araçları yanınızda bulundurmanız ve kopya çekmeye teşebbüs etmeniz hâlinde sınavınız geçersiz sayılacaktır.
3. Başvuru şartlarını taşımadığınız hâlde sınava girmeniz, kopya çekmeniz, başka adayın sınav evrakını kullanmanız, geçerli kimlik belgenizi ve sınav giriş belgenizi ibraz edemediğiniz durumlarda sınavınız geçersiz sayılacaktır.
4. Sınavın değerlendirilmesi aşamasında, bilgisayar ortamında yapılan kopya analizinde sistemin ikili ve/veya toplu kopya tespiti hâlinde sınavınız geçersiz sayılacaktır.

CEVAP KÂĞIDI VE SORU KİTAPÇIĞI İLE İLGİLİ AÇIKLAMALAR

1. Cevap kâğıdınızdaki bilgilerin doğruluğunu kontrol ediniz ve cevap kâğıdınızı mürekkepli kalemle imzalayınız.
2. Kitapçık türünüzü cevap kâğıdınızdaki ilgili alana kodlayınız. Değerlendirme işlemleri cevap kâğıdındaki kodlamalara göre yapıldığından eksik ya da hatalı kodlamalarda sorumluluk size ait olacaktır.
3. Cevap kâğıdı üzerinde kodlamalarınızı siyah kurşun kalemle yapınız.
4. Değiştirmek istediğiniz bir cevabı, yumuşak silgiyle cevap kâğıdını örselemeden temizce siliniz ve yeni cevabınızı kodlayınız.
5. Soru kitapçığının sayfalarını kontrol ediniz, baskı hatası var ise değiştirilmesini sağlayınız.
6. Soru kitapçığının ön yüzündeki ilgili yerlere ad, soyad ve T.C. kimlik numaranızı yazınız.
7. Her sorunun **BEŞ** seçeneğinden sadece biri doğrudur. Doğru seçeneği, cevap kâğıdınızın ilgili sütununa soru numarasını dikkate alarak yuvarlağın dışına taşımadan kodlayınız. **Soru kitapçığı üzerinde yapılan cevaplandırmalar dikkate alınmayacaktır.**
8. Yanlış cevaplarınız dikkate alınmadan sadece doğru cevaplarınız üzerinden puanlama yapılacaktır.
9. Soruları ve sorulara verdiğiniz cevapları, yanınızda götürmek amacıyla kaydetmeyiniz; hiçbir şekilde dışarı çıkarmayınız.
10. Sınav bitiminde, soru kitapçığı ve cevap kâğıdını salon görevlilerine teslim ediniz.

BAŞLAYINIZ DENMEDEN SORU KİTAPÇIĞINI AÇMAYINIZ.

1. Ne şair yaş döker ne âşık ağlar
Tarihe karıştı eski sevdalar

Bu dizelerdeki altı çizili söz grubunun cümleye kattığı anlam aşağıdakilerin hangisinde vardır?

- A) Geçen ay severek aldığı pantolon giyilmekten eskimiş.
- B) Telefonun satışa çıkarılan yeni modeli bir saatte tükendi.
- C) Kulüp kapanınca kazandığı başarılar da unutuldu.
- D) Bardağa koyduğum çayın içinde, şeker yavaş yavaş eriyip kayboluyor.
- E) Eskiden hayatıma yerli yersiz müdahale ederdin ama şimdi rahat bırakıyor.

2. Bu eleştiri yazılarının hepsi, metni üstünkörü inceliyor.

Altı çizili söz grubunun cümleye kattığı anlam aşağıdakilerin hangisinde vardır?

- A) Dikkatini toplayarak kendini çalışmaya vermişti.
- B) Morali bozuk olduğundan odasını gelişigüzel temizlemiş.
- C) Karmakarışık duygularımı ifade etmek için şiirler yazıyordum.
- D) Hem ulusal hem de uluslararası alanda böyle sessiz bir anlaşma var.
- E) Sorumluluk sahibi bir birey, olaylara bu şekilde yaklaşmamalıdır.

3. "Etek" sözcüğü aşağıdakilerin hangisinde bir deyim içinde kullanılmamıştır?

- A) Yazarın imza gününe gelemeyeceğini öğrenince yayınevinin etekleri tutuştu.
- B) Senin eteğini toplamaktan işleriyle ilgilenmeye zamanı kalmadı.
- C) Hilmi, müdürün eteğinden ayrılmıyor; peşi sıra yürümekten vazgeçmiyordu.
- D) Sevim'in eteği bir dikene takılıp yırtılmış, beyaz ayakkabıları çamura batmıştı.
- E) Okula ilk gittiği gün Gülsüm'ün etekleri zil çalıyordu.

4. Kırılan kalpleri onarmak her zaman mümkün olmuyor.

Altı çizili sözcüğün cümleye kattığı anlam aşağıdakilerin hangisidir?

- A) İki veya daha fazla parçaya ayrılmak
- B) İncinmek, gücenmek
- C) Katlandığı yerde kat yeri meydana gelmek
- D) Yok olmak
- E) Soğuk, rüzgâr vb. eski gücü kalmamak

5. **Aşağıdaki cümlelerin hangisinde eylemin birden çok yapıldığı anlamı vardır?**

- A) Akşama doğru Yeşim ile sinemaya gideceğiz.
- B) Arabanın farını zor da olsa kendim değiştirdim.
- C) Seyahat etmek için Uzak Doğu'yu tercih etmiş.
- D) Stada girmeden önce üzerimizdeki tüm madenî paraları aldılar.
- E) Arkadaşlarla yine o balıkçı lokantasında buluştuk.

6. **Aşağıdaki cümlelerin hangisinde amaç-sonuç ilişkisi söz konusudur?**

- A) Eski dostunu gördüğünde çok mutlu oldu.
- B) Bu olaylar onu o kadar yıprattı ki artık kendini toparlayamaz.
- C) Çocukların istedikleri oyuncakları alarak eve doğru yürüdü.
- D) Fazla duygusallığı kendine yakıştıramadığından hep sert dururdu.
- E) Büyük saatin ayarını yapmak için kapağını açtım.

7. "Bir ağacın gölgesinde bir sürü yatar." atasözünün anlamı aşağıdakilerden hangisidir?

- A) İyiliksever, bilgili, varlıklı kimselerden pek çok kişi yararlanır.
- B) İnsan yapacağı işte başkalarına değil kendisine güvenmelidir.
- C) Bir kimsenin, bir şeyin değerini ancak o konuda uzman olanlar bilir.
- D) Güçsüz kişiler her zaman yardıma muhtaçtır.
- E) Çocuklar anne babalarından öğrendiklerini yapmaya özenirler.

8. (I) Tirilye küçümen bir kasaba olduğu için hediyelik eşya konusunda az ama öz seçeneklere sahip. (II) Sıcacık sarı duvarlarıyla, rengârenk aksesuarlarıyla Tirilye Çarşısı'nı gözden kaçırmazınıza imkân yok. (III) İçeri girince sedef, egzama gibi çeşitli hastalıklara iyi geldiği, nem dengesini sağlayarak cildi genç tuttuğu iddia edilen doğal ve sağlıklı tuz sabunlarına özellikle bir bakın. (IV) Radyasyon azaltan tuz lambaları, bilgisayar ve televizyonların olduğu her eve lazım. (V) Ayrıca Tirilye'nin sembolü olan, üzeri çiçek desenli yuvarlak çömlekten yapılmış "sevgi kumbarası"nı, hediyelik eşya satan dükkânların vitrininde görebilirsiniz.

Bu parçada numaralanmış cümlelerden hangisinde kişisel bir görüşe yer verilmemiştir?

- A) I. B) II. C) III. D) IV. E) V.

9. Aşağıdaki cümlelerin hangisinde öz eleştiri yapılmıştır?

- A) Bazı insanların sözleriyle davranışları birbirini tutmuyor.
B) Çiftçiler erkenden kalkıp bağ bahçe işlerini yapmaya başladı.
C) Benim eksikliğim, yaptığım planları iyi uygulamamam.
D) Herkese güler yüzlü davrandığından çevresinde çok sevilir.
E) Yağışlar azalınca su kesintisi uygulanmaya başlandı.

10. Bu dünyadan birçok insan gelip geçiyor. Arkalarında hiçbir iz bırakmadan gidiyorlar. Oysa edebiyatçılar öyle mi ya? Geride bıraktıkları eserler, onların hayata bıraktıkları izlerdir ve bu izler kolay kolay silinmez. Yalnız her edebiyatçının ölümsüz izler bıraktığını söylemek de doğru değildir. Bir sanatçı, ölümsüz olabilmek için eserine emek vermeli. Kurgusuyla, konusuyla belirli bir çizgiyi aşmalı; eserlerinin niteliği yüksek olmalıdır.

Bu metinde vurgulanmak istenen düşünce aşağıdakilerden hangisidir?

- A) Birçok yazar kısa sürede unutulmaktadır.
B) Özgün bir sanatçı olmak için çalışmak gerekir.
C) Bir edebiyatçıyı kalıcı yapan, eserinin kalitesidir.
D) Edebî eserin niteliği çok okunmasına bağlıdır.
E) Ünlü sanatçıların her eseri değerlidir.

11. Bence çocuğun görme, düşünme biçimini yakalamalı; onun dünyasına girebilmeli. Bunu çok az çocuk kitabı başarabiliyor. Çoğu çocuk kitabında yazarlar, ya geçmişe özlemle kendi çocukluklarını anlatıyorlar ya da onlara kendi doğru bildikleri şeyleri öğretmeye çalışıyorlar. Ama onlarla aynı seviyede bir diyaloga girmede hep zorlanıyorlar. Bu açıdan çoğu kitapta, çocuklara özgü gerçeklerin eksik olduğunu düşünüyorum.

Bu metin aşağıdaki sorulardan hangisine yanıt vermek amacıyla yazılmıştır?

- A) İyi bir çocuk kitabı nasıl olmalı?
B) Kitaplarda çocuklara ne kadar yer verilmeli?
C) Özellikle çocuk kitapları yazmanın amacı nedir?
D) Her yazar, çocuk kitabı yazabilir mi?
E) Çocukların dünyasını anlamak zor mudur?

12. (I) Bozkıra uzaktan bakanlar, bu coğrafyayı yeterince tanımayanlar cehaletin buraya hâkim olduğu zannına kapılırlar. (II) Oysa bilmezler ki bu toprakların mayasıyla yoğrulmuş insanda sağduyu vardır, basiret vardır, samimiyet vardır. (III) Bozkır insanı, toprağı ile yanmıştır, kavrulmuştur; hakikatlidir, yalansızdır. (IV) Toprağı gibidir bozkır insanı. (V) Görünüşte sert, içinden yufka yüreklidir.

Bu metindeki numaralanmış cümlelerle ilgili aşağıdakilerden hangisi söylenemez?

- A) I. cümlede yanlış bilinen bir yargıdan söz edilmiştir.
B) II. cümlede bozkır insanının kişilik özelliklerinden bahsedilmiştir.
C) III. cümlede farklı coğrafyaların insanları karşılaştırılmıştır.
D) IV. cümlede bozkır insanının yaşadığı coğrafyayla benzerliği dile getirilmiştir.
E) V. cümlede bozkır insanının görüldüğünden farklı olduğu söylenmiştir.

13. Türkler; Orta Asya'dan başlayıp Anadolu'nun fethi, Beylikler Dönemi, Selçuklu ve Osmanlı İmparatorluğu ile devam eden varlık sürecinde birçok farklı toplumla kültürel yönden etkileşime girdi. Bu durum, mutfaklarına da yansdı. Farklı kültürlerin etkileriyle sebze yemeklerinden et yemeklerine, çorbalarından zeytinyağlılarına, tatlılarından mezelerine kadar çeşitlilik arttı ve yemek kültürü büyük bir gelişim gösterdi. Böylece - - - - . Uluslararası ünlü şeflerin ilgisi de bunun en büyük göstergesi.

Bu metinde boş bırakılan yere düşüncenin akışına göre aşağıdakilerden hangisi getirilmelidir?

- A) hiçbir kültürün etkisini taşımayan bize özgü yemekler ortaya çıktı
B) Türk mutfağı dünyanın en zengin mutfaklarından biri oldu
C) Osmanlı mutfağındaki kendine has tatlar ortadan kayboldu
D) sebze ve et yemeklerinin ağırlıkta olduğu bir mutfak ortaya çıktı
E) aşçılık önemli mesleklerden biri hâline geldi

14. I. Kimi zaman da geleceğin gizemli dünyasına düşer yolumuz, gezegenler arası yolculuklar yapan bir uzay gemisine bineriz.
II. Henüz bir zaman makinesi yapılamadığından bu düşüncemiz tatlı bir hayalden öte geçemez.
III. Yine de hoştur böyle hayaller kurmak; kimi zaman geçmişe gittiğimizi düşünürüz, kralların sarayında dolaşır, dinozorların arasında geziniriz.
IV. Bazen hepimiz düşünürüz, bir zaman makinemiz olsa hangi çağa giderdik diye.

Numaralanmış cümlelerle anlamlı bir metin oluşturulduğunda sıralama aşağıdakilerden hangisi olur?

- A) II – IV – I – III
B) II – III – IV – I
C) IV – I – II – III
D) IV – II – III – I
E) IV – III – II – I

15. (I) Günümüzün en çok kullanılan iletişim aracı olan telefona artık herkes zorunlu bir ihtiyaç olarak bakmaktadır. (II) Her geçen gün gelişen teknoloji de telefon tüketimini körüklemektedir. (III) Lüks ve tüketim düşkünlüğü en çok da az gelişmiş ülkelerin sorunudur. (IV) İnsanlar, eskmediği hâlde yeni modeli çıktığı için telefonlarını değiştirmek istemektedir. (V) Bu durum da insanların bütçelerinin önemli bir kısmını cep telefonlarına ayırmasına neden olmaktadır.

Bu metinde numaralanmış cümlelerden hangisi düşüncenin akışını bozmaktadır?

- A) I. B) II. C) III. D) IV. E) V.

16. Büyük kentlerde, özellikle sanayi etkinliklerinin yoğunlaştığı yerlerde yaşayan çocuklar; yol yapımında, fabrika kurmada kullanılan güçlü makinelerin nasıl çalıştığını merak ederler. Lokomotif, kepçe, vinç, asfalt makinesi vb. araçların işleyişini ve insanlara yaptıkları hizmetleri anlatan eserler onların çok ilgisini çeker. Tarımsal bölgelerde oturan çocuklar da doğal olarak tarıma ilişkin araç ve gereçlerin (traktör, biçerdöver vb.) işleyişlerini ve yararlarını anlatan kitapları okumak isterler.

Bu metnin anlatımında aşağıdakilerden hangisine başvurulmuştur?

- A) Benzetme - Karşılaştırma
B) Örnekleme - Tanımlama
C) Tanık gösterme - Benzetme
D) Karşılaştırma - Örnekleme
E) Tanımlama - Tanık gösterme

17. **Aşağıdaki dizelerin hangisinde altı çizili sözcükte ünlü düşmesi vardır?**

- A) Ne alında dolaşan dost eli
Ne yardım edecek kimsesi vardı
B) Şu esen rüzgâra bıraktım işte
Yaşayan duyan her şeyimi
C) Kalbimizin üç köşesi yangın yeri, perişan
Güzel şehir diri diri perişan
D) Beni beklemişler kardeşçğim
Beni bu ağaçlar, nehirler, gökyüzü
E) Bir hırçın çocuğum, değişmez huyum;
Seneler geçse de ben yine buyum!

18. Aşağıdaki cümlelerin hangisinde altı çizili sözcük sıfattır?

- A) Saatler geçmek bilmiyor, zaman yavaşladıkça yavaşlıyordu.
- B) Kitabenin üzerindeki yazıyı zor da olsa okumayı başarmışlardı.
- C) Eylülün ilk günleriydi ve havalar henüz soğumamıştı.
- D) Paltosunu ve şapkasını askıdan alıp sokağa fırladı.
- E) Akşam güneş batarken sürü ve yorgun çoban köye yaklaşıyordu.

19. Aşağıdaki cümlelerin hangisinde yazım yanlışı vardır?

- A) Derin bir nefes alıp ciğerlerindeki havayı boşaltıverdi.
- B) Öğrenciler “ben sana mecburum” adlı şiiri incelediler.
- C) Sanat dünyasının ünlüleri bir araya geldi.
- D) Bu kurallar bugün de yarın da geçerli olacaktır.
- E) Giysilerinin hâlâ ıslak olduğunu fark etti.

20. Gözlerinde tedirginlik () kızgınlık ve üzüntü bir aradaydı. Sessizce yanına iliştim () Beni görünce sakinleşti. “Nerede kaldın ()” dedi. “Az kalsın sıkıntidan patlayacaktım ()”

Bu parçada ayrıçla gösterilen yerlere sırasıyla aşağıdaki noktalama işaretlerinden hangisi getirilmelidir?

- A) (,) (!) (.) (.)
- B) (;) (!) (?) (...)
- C) (-) (...) (!) (!)
- D) (,) (.) (?) (!)
- E) (;) (.) (!) (.)

21. Atatürk, II. Dünya Savaşı'nın belirtilerini önceden fark etmiş ve Türkiye'nin bu savaşta tarafsız kalması gerektiğini söylemiştir.

Bu durum Atatürk'ün aşağıdaki kişilik özelliklerinden hangisini yansıtır?

- A) Cesaretliliğini
- B) Öğreticiliğini
- C) Açık sözlülüğünü
- D) İleri görüşlülüğünü
- E) Hoşgörülü olmasını

22. Gönüllü olarak bir yardım kuruluşunda çalışmaya başlayan kişi, aşağıdakilerden hangisini amaçlamış olamaz?

- A) İş birliğini
- B) Dayanışmayı
- C) Yardımlaşmayı
- D) Sevap kazanmayı
- E) Maddi kazanç sağlamayı

23. Keops Piramidi, aşağıdaki ülkelerin hangisinde bulunmaktadır?

- A) Mısır
- B) Hindistan
- C) İtalya
- D) Irak
- E) Çin

24. Lidyalıların alışverişte parayı kullanmaları aşağıdakilerden hangisinin gelişmesinde daha çok etkili olmuştur?

- A) Tarımın
- B) Ticaretin
- C) Sanayinin
- D) Bilimin
- E) Sanatın

25. Akarsuların yatağını aşındırarak oluşturduğu yüzey şekillerine - - - - denir.

Cümlede boş bırakılan yere aşağıdakilerden hangisi yazılmalıdır?

- A) vadi
B) plato
C) göl
D) ova
E) dağ

26. Bir bölgedeki ekonomik faaliyetler, o bölgenin coğrafi özellikleriyle yakından ilgilidir.

Buna göre geniş otlaklarla kaplı Doğu Anadolu Bölgesi'nde aşağıdaki ekonomik faaliyetlerden hangisinin gelişmiş olması beklenir?

- A) Tarım
B) Sanayi
C) Turizm
D) Ticaret
E) Hayvancılık

27. Bağımsızlık sembollerimizden biri olan İstiklal Marşı'mızın şairi aşağıdakilerden hangisidir?

- A) Ziya Gökalp
B) Mehmet Emin Yurdakul
C) Mehmet Akif Ersoy
D) Hamdullah Suphi Tanrıöver
E) Zeki Üngör

28. Yazlar serin, kışlar ılık ve her mevsim yağışlıdır. Yağışların fazlalığından dolayı bitki örtüsü ormandır.

Bazı özellikleri verilen iklim tipi aşağıdakilerden hangisidir?

- A) Karasal iklim
B) Akdeniz iklimi
C) Kutup iklimi
D) Karadeniz iklimi
E) Çöl iklimi

29. Aşağıdakilerden hangisi Dört Halife Dönemi olaylarından biri değildir?

- A) Mısır'ın fethi
B) Suriye'nin fethi
C) Hicri takvimin kabul edilmesi
D) Kur'an'ın çoğaltılması
E) Hicret olayı

30. Aşağıdaki savaşlardan hangisinin sonucunda Anadolu kapıları Türklere açılmıştır?

- A) Malazgirt Savaşı
B) Miryokefalon Savaşı
C) Dandanakan Savaşı
D) Pasinler Savaşı
E) Katvan Savaşı

31. Anayasa'da yer alan "...hâkim kararı olmadıkça kimsenin konutuna girilemez, arama yapılamaz ve buradaki eşyaya el konulamaz." hükmü, aşağıdaki temel hak ve özgürlüklerden hangisiyle ilgilidir?

- A) Özel yaşamın gizliliği hakkı
B) Konut dokunulmazlığı hakkı
C) Kişi dokunulmazlığı hakkı
D) Yaşama hakkı
E) Sağlık hakkı

32. Aşağıdaki illerimizden hangisi Ege Bölgesi'nde yer alır?

- A) Edirne
B) Mersin
C) İzmir
D) Sinop
E) Van

33. 1533 yılında İstanbul'a gelen Barbaros Hayrettin Paşa Kanuni Sultan Süleyman tarafından kabul edildi ve kendisine "Kaptanıderyalık" rütbesi verildi.

Buna göre Barbaros Hayrettin Paşa'ya verilen görevin günümüzdeki karşılığı aşağıdakilerden hangisi olabilir?

- A) Kara Kuvvetleri Komutanlığı
B) Deniz Kuvvetleri Komutanlığı
C) Jandarma Genel Komutanlığı
D) Millî Savunma Bakanlığı
E) İçişleri Bakanlığı

34. Kristof Kolomb, İspanya kıyılarından Atlas Okyanusuna açılmış ve sürekli batıya gidilirse Hindistan ve Çin'e ulaşacağını söylemiştir.

Bu bilgiye göre Kristof Kolomb'un Dünya ile ilgili olarak aşağıdakilerden hangisini anlatmak istediği söylenebilir?

- A) Dünya'nın yuvarlak olduğunu
B) Denizlerin karalardan daha fazla olduğunu
C) İspanya'nın Dünya'nın merkezinde yer aldığını
D) Hindistan'ın İspanya'nın doğusunda bulunduğunu
E) Afrika'nın güneyinden Hindistan'a yeni bir yol bulunabileceğini

35. Atatürk, "Ulusun oy ve isteğine dayanan her işin sonucunda ulus için iyilik ve mutluluk olacağı kesindir." **sözünüle aşağıdakilerden hangisinin önemini vurgulamıştır?**

- A) Laikliğin
B) Millî kültürün
C) Halkı sevmenin
D) Millî egemenliğin
E) Ekonomik kalkınmanın

36. Bir maddenin iki özelliği verilmiştir.

- Renksiz ve saydamdır.
- Yüzeyi pürüzsüzdür.

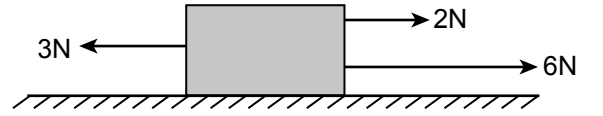
Bu madde aşağıdakilerden hangisidir?

- A) Hava
B) Cam
C) Toprak
D) Süt
E) Toz şeker

37. **Aşağıdaki olaylardan hangisi sürtünme kuvvetinin etkisini artırmak için yapılmıştır?**

- A) Yolda giden bir aracın frenine basılması
B) Ağır cisimlere teker takılması
C) Makinelerde hareketli parçalarda bilyeli yataklar kullanılması
D) Birbirine temas eden yüzeylerin yağlanması
E) Uçakların ön kısımlarının sivri olarak tasarlanması

38. Şekildeki bir cisme aynı doğrultuda zıt yönde üç kuvvet etki etmektedir.



Buna göre uygulanan kuvvetlerin bileşkesi kaç N'dur?

- A) 2 B) 3 C) 5 D) 8 E) 11

39. **Işık prizmasına gönderilen beyaz ışık kırılarak prizmadan geçtikten sonra aşağıdaki renklerden hangisi oluşmaz?**

- A) Kırmızı B) Turuncu
C) Yeşil D) Siyah
E) Mor

40. **Belirli bir uzaklıkta çalan müziğin sesinin duyulabilmesi için geçen süre aşağıdakilerden hangisine bağlı değildir?**

- A) Sesin şiddetine
B) Ortamın cinsine
C) Sesin tınısına
D) Ortamın sıcaklığına
E) Sesin hızına

41. Aşağıda verilen maddelerden hangisi suya kolayca karıştırılırsa çözelti örneği elde edilir?

- A) Naftalin
B) Sıvı yağ
C) Kum
D) Şeker
E) Tebeşir tozu

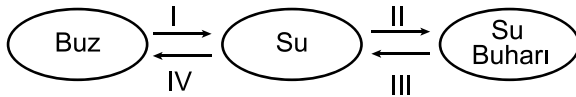
42. Aşağıdakilerden hangisinde kimyasal değişim olayı gözlemlenir?

- A) Küp şekerin ezilerek parçalara ayrılması
B) Kumun su ile ıslatılması
C) Çaydanlıktaki suyun kaynatılması
D) Kışın yağın karın hava ısınınca erimesi
E) Sütün mayalanarak yoğurt yapılması

43. Aşağıdakilerden hangisi su bileşiğinin formülüdür?

- A) HCl
B) H₂O
C) NH₃
D) SO₂
E) CaO

44. Suyun hâl değişim basamakları numaralanarak verilmiştir.



Bu olaylar gerçekleşirken madde hangi basamaklarda ısı verir?

- A) Yalnız I.
B) Yalnız III.
C) I ve II.
D) II ve III.
E) III ve IV.

45. Hücrede bir yapıya ait özellikler verilmiştir.

- Büyüme, gelişme, bölünme ve denetim merkezidir.
- İçerisinde kalıtsal özellikleri taşıyan kromozomlar bulunur.

Bu özellikler hücrede bulunan hangi yapıya aittir?

- A) Mitokondri
B) Çekirdek
C) Kloroplast
D) Koful
E) Sitoplazma

46. • Uçları keskindir.
• Yiyecekleri ısırma ve koparmaya yarar.
• Alt ve üst çenede toplam sekiz tane bulunur.

Özellikleri verilen diş çeşidi aşağıdakilerden hangisidir?

- A) Kesici dişler
B) Süt dişleri
C) Köpek dişleri
D) Azı dişleri
E) Yirmi yaş dişleri

47. • Besinler burada uzun süre bekler.
• Proteinlerin sindirimi bu organda başlar.

Yukarıda bazı görevleri verilen organ hangisidir?

- A) Kalın bağırsak
B) Yemek borusu
C) İnce bağırsak
D) Mide
E) Ağız

48. Solunum sırasında alınan hava akciğere giderken hangi organdan geçmez?

- A) Burun
B) Yutak
C) Soluk borusu
D) Gırtlak
E) Yemek borusu

49. • Çoğunlukla kırmızı ve yeşil renkleri ayırt edemez.
• Tedavisi yoktur.

Yukarıda özellikleri verilen göz kusuru hangisidir?

- A) Miyopluk
B) Hipermetropluk
C) Renk körlüğü
D) Astigmatlık
E) Katarakt

50. Bitkiler fotosentez olayı sonucunda aşağıdakilerden hangisini üretir?

- A) Besin
B) Güneş ışığı
C) Karbondioksit
D) Klorofil
E) Su

51. Aşağıdakilerden hangisi doğada yön bulmada kullanılan yöntem ve araçlardan biri değildir?

- A) Pusula
B) Termometre
C) Kutup yıldızı
D) Ağaçlardaki yosunlar
E) Karınca yuvaları

52. Bir yerin kuşbakışı görüntüsünün kâğıt üzerine ölçsüz olarak çizilmesine ne ad verilir?

- A) Harita
B) Grafik
C) Kroki
D) Ölçek
E) Plan

53. I. Hoşgörülü olmak
II. Sorunları görmezden gelmek
III. Sorumluluk alabilmek
IV. Kişiler arasında ayırım yapmak

Yukarıdakilerden hangileri grup liderinde bulunması gereken özelliklerdendir?

- A) II ve IV.
B) II ve III.
C) I ve IV.
D) I ve II.
E) I ve III.

54. Atatürk, Kurtuluş Savaşı'nı başlatmak için 19 Mayıs 1919 günü hangi şehre gitmiştir?

- A) Ankara
B) İstanbul
C) Erzurum
D) Sivas
E) Samsun

55. I. Vergi vermek
II. Spor yapmak
III. Yasalara uymak

Yukarıdakilerden hangileri Türk vatandaşı olarak yerine getirmemiz gereken görev ve sorumluluklardandır?

- A) Yalnız I. B) Yalnız III.
C) I ve II. D) I ve III.
E) II ve III.

56. Atatürk'ün getirdiği yeniliklerden hangisi sayesinde kadınlar oy kullanma hakkına sahip olmuştur?

- A) Seçme ve Seçilme Hakkı
B) Eğitim Hakkı
C) Kılık Kıyafet Yeniliği
D) Latin Alfabesinin Kabulü
E) Soyadı Kanunu

57. Her yıl 29 Ekim'de kutladığımız bayram aşağıdakilerden hangisidir?

- A) Cumhuriyet Bayramı
- B) Zafer Bayramı
- C) Ramazan Bayramı
- D) Atatürk'ü Anma ve Gençlik ve Spor Bayramı
- E) Ulusal Egemenlik ve Çocuk Bayramı

58.

Çok eskiden insanlar haberleşmek için ateşten faydalanmışlardır. Yazının bulunmasıyla mektupla haberleşme başlamış, daha sonraları teknolojinin gelişmesiyle birlikte telefon, radyo, televizyon ve bilgisayar gibi yeni haberleşme araçları icat edilmiştir.



Ali

Ali, konuşmasında hangi alandaki gelişmeleri anlatmıştır?

- A) Sağlık
- B) Eğitim
- C) Ulaşım
- D) Sanat
- E) İletişim

59. Aşağıdakilerden hangisi bilinçli bir tüketici davranışı değildir?

- A) Ürünlerin kalite ve fiyatını araştırır.
- B) Son kullanma tarihi geçmiş ürünleri kullanır.
- C) Ürünlerde TSE damgası olmasına dikkat eder.
- D) Garanti belgesi olan ürünleri tercih eder.
- E) Alışveriş sırasında fiş veya fatura alır.

60. Ampulü icat eden Thomas Edison, "Evet, ben hayalimi dokuz yüz doksan dokuz başarısız deneyden sonra, binincide gerçekleştirdim." demiştir.

Edison'un bu sözü, onun hangi kişilik özelliğine sahip olduğunu gösterir?

- A) Sabırlı
- B) Dürüst
- C) Saygılı
- D) Hoşgörülü
- E) Yardımsever

61. Ülkemizde hava durumu tahmini yapan kurum aşağıdakilerden hangisidir?

- A) Türk Hava Kurumu
- B) Çevre ve Şehircilik Bakanlığı
- C) Meteoroloji Genel Müdürlüğü
- D) Sivil Havacılık Genel Müdürlüğü
- E) Devlet Hava Meydanları İşletmesi Genel Müdürlüğü

62. - - - - geçmişten günümüze kadar korunan tarihi ve kültürel eserlerin sergilendiği yerlerdir.

Cümledeki boşluğa aşağıdakilerden hangisinin yazılması uygundur?

- A) Parklar
- B) Alışveriş merkezleri
- C) Hastaneler
- D) Müzeler
- E) Okullar

63. Ulaşım araçlarının gelişmesini sağlayan en önemli buluş aşağıdakilerden hangisidir?

- A) Ateş
- B) Tekerlek
- C) Yazı
- D) Ampul
- E) Kâğıt

64. Aşağıdakilerden hangisi görgü kurallarına uygun bir davranıştır?

- A) Toplu taşımada yaşlılara yer vermek
- B) Yüksek sesle müzik dinlemek
- C) Başkasının eşyasını izinsiz kullanmak
- D) İnsanların özel konuşmalarını gizlice dinlemek
- E) Ağızda yemek varken konuşmak

65. Aşağıdaki davranışlardan hangisi kişiler arası iletişimi olumsuz etkiler?

- A) Konuşurken ses tonuna dikkat etmek
- B) Dinleyicinin yüzüne bakmak
- C) Nezaket ifadeleri kullanmak
- D) Konuşan kişinin fikirlerini önemsemek
- E) Konuşan kişinin sözünü kesmek

66. Berna'nın 51 lirası vardır. Leyla'nın parası Berna'nın parasının 3 katına eşittir.

Buna göre ikisinin toplam kaç lirası vardır?

- A) 54
- B) 68
- C) 104
- D) 153
- E) 204

67. Bir masanın kare şeklindeki üst yüzünün çevresi 144 cm'dir.

Buna göre bu masanın üst yüzünün bir kenarının uzunluğu kaç santimetredir?

- A) 12
- B) 24
- C) 36
- D) 54
- E) 72

68. Serkan Bey'in aldığı ürünün üretim tarihi 22 Kasım 2017'dir.

Bu ürünün üretim tarihi ile son kullanma tarihi arasındaki fark 15 ay olduğuna göre ürünün son kullanma tarihi aşağıdakilerden hangisidir?

- A) 22 Şubat 2018
- B) 22 Mart 2018
- C) 22 Şubat 2019
- D) 22 Mart 2019
- E) 22 Nisan 2019

69. Boşken kütlesi 3150 kg olan bir kamyonla, her birinin kütlesi 70 kg olan un çuvaları yüklendiğinde kamyonun kütlesi 5250 kg oluyor.

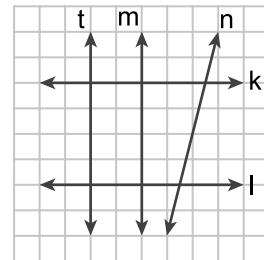
Buna göre kamyonla kaç çuval un yüklenmiştir?

- A) 150
- B) 75
- C) 45
- D) 30
- E) 24

70. $178,03 + 12,104$ işleminin sonucu kaçtır?

- A) 180,134
- B) 190,134
- C) 199,07
- D) 298,134
- E) 299,07

71. Kareli kâğıtta k, l, m, n, t doğruları verilmiştir.



Buna göre aşağıdaki ifadelerden hangisi yanlıştır?

- A) $k \parallel l$
- B) $n \parallel m$
- C) $k \perp m$
- D) $l \perp m$
- E) $m \parallel t$

72. $26 + 7 \cdot 13$ işleminin sonucu kaçtır?

- A) 75 B) 82 C) 117 D) 329 E) 429

73. $\frac{4}{9} \div \frac{3}{8}$ işleminin sonucu kaçtır?

- A) $\frac{1}{6}$ B) $\frac{7}{17}$ C) $\frac{59}{72}$ D) $\frac{32}{27}$ E) $\frac{7}{3}$

74. Ayşe içinde 1 litre meyve suyu bulunan kaplardan 3 adet, yarım litre meyve suyu bulunan kaplardan 4 adet almıştır.

Ayşe toplam kaç mililitre meyve suyu almıştır?

- A) 400 B) 800
C) 5000 D) 7000
E) 8000

75. Ahmet satış fiyatları aynı olan 3 kalem için 15 lira ödüyor.

Ahmet aynı kalemlerden 5 tane alsaydı kaç lira öderdi?

- A) 75 B) 45 C) 30 D) 25 E) 20

76. Bir elbise %20 indirim yapılarak 160 liraya satılmaktadır.

Buna göre bu elbisenin indirim yapılmadan önceki satış fiyatı kaç liradır?

- A) 180 B) 200 C) 220 D) 240 E) 260

77. Fatma Teyze pazardan aldığı domates için 30 lira ödüyor. 3 kg daha domates alsaydı 39 lira ödeyecekti.

Buna göre Fatma Teyze başlangıçta kaç kilogram domates almıştır?

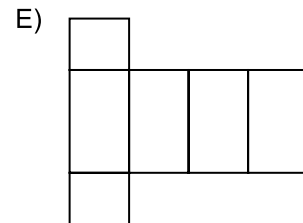
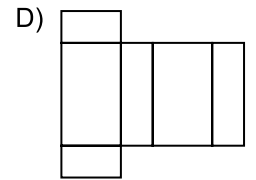
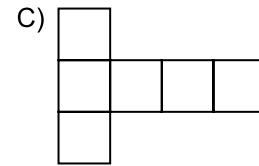
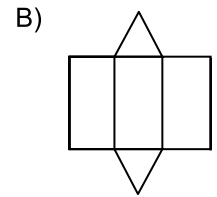
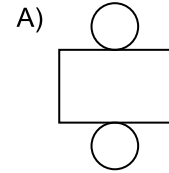
- A) 3 B) 5 C) 6 D) 9 E) 10

78. 2^{-3} ifadesinin değeri aşağıdakilerden hangisine eşittir?

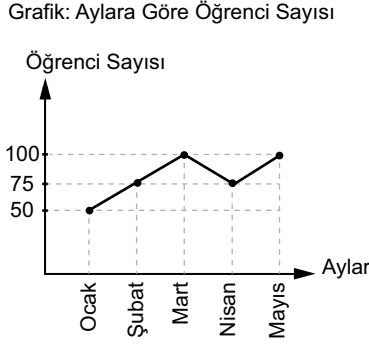
- A) -6 B) -1 C) $-\frac{1}{8}$ D) $\frac{1}{8}$ E) 6

79. Aşağıda bazı geometrik cisimlerin açınımları verilmiştir.

Bunlardan hangisi silindire ait olabilir?



80. Aşağıdaki grafikte bir yüzde kursuna katılan öğrencilerin sayılarının yılın ilk beş ayına göre dağılımı verilmiştir.



Bu verilere uygun sütun grafiği aşağıdakilerden hangisidir?

- A) Grafik: Aylara Göre Öğrenci Sayısı
-
- B) Grafik: Aylara Göre Öğrenci Sayısı
-
- C) Grafik: Aylara Göre Öğrenci Sayısı
-
- D) Grafik: Aylara Göre Öğrenci Sayısı
-
- E) Grafik: Aylara Göre Öğrenci Sayısı
-

81. Aşağıdakilerden hangisi bir eğitim kurumudur?

- A) Türbe
B) Kümbet
C) İmarethane
D) Kervansaray
E) Medrese

82. İstanbul'u fetheden Osmanlı padişahı aşağıdakilerden hangisidir?

- A) I. Murat
B) Çelebi Mehmet
C) Yıldırım Bayezid
D) Fatih Sultan Mehmet
E) Kanuni Sultan Süleyman

83. Merkeze bağlı yönetimde en üst düzeydeki yönetici aşağıdakilerden hangisidir?

- A) Muhtar
B) Kaymakam
C) Vali
D) Belediye başkanı
E) Hâkim

84. Aşağıdakilerden hangisi Türk cumhuriyetlerinden biri değildir?

- A) Kazakistan
B) Türkmenistan
C) Özbekistan
D) Gürcistan
E) Azerbaycan

85. Topkapı Sarayı ve Dolmabahçe Sarayı aşağıdaki şehirlerden hangisinde bulunmaktadır?

- A) Rize
- B) Sivas
- C) İstanbul
- D) Kayseri
- E) Konya

86. Kuzey Kıbrıs Türk Cumhuriyeti'nin kurucusu ve ilk cumhurbaşkanı aşağıdakilerden hangisidir?

- A) Oktay Sinanoğlu
- B) Gazi Yaşargil
- C) Aliya İzzetbegoviç
- D) Derviş Eroğlu
- E) Rauf Denктаş

87. Aşağıdakilerden hangisi Anadolu'da yaşamış medeniyetlerden biri değildir?

- A) İnkա
- B) Urartu
- C) Hitit
- D) Frigya
- E) Lidya

88. Aşağıdaki nehirlerden hangisi Ege kıyılarından denize ulaşır?

- A) Gediz
- B) Dicle
- C) Fırat
- D) Asi
- E) Kızılırmak

89. Aşağıdaki tarım ürünlerinden hangisinin üretiminde Türkiye Dünya'da birinci sıradadır?

- A) Tütün
- B) Mısır
- C) Pamuk
- D) Muz
- E) Fındık

90. Aşağıdaki şehirlerden hangisinin yıllık ortalama sıcaklık değerleri daha düşüktür?

- A) Manisa
- B) Antalya
- C) Ağrı
- D) Şanlıurfa
- E) Amasya

91. Millî sporcumuz Mete Gazoz aşağıdaki spor dallarından hangisinde madalya kazanmıştır?

- A) Binicilik
- B) Okçuluk
- C) Buz Pateni
- D) Eskrim
- E) Yüzme

92. Türkiye aşağıdaki yeraltı kaynaklarından hangisinin rezervi bakımından Dünya'da birinci sıradadır?

- A) Demir
- B) Bakır
- C) Bor
- D) Krom
- E) Altın

93. Türkiye ile en uzun kara sınırı olan ülke aşağıdakilerden hangisidir?

- A) Yunanistan
- B) Suriye
- C) Irak
- D) İran
- E) Ermenistan

94. Yeni Cumhurbaşkanlığı Hükûmet Sistemi'nin ilk İçişleri Bakanı aşağıdakilerden hangisidir?

- A) Süleyman Soylu
- B) Fahrettin Koca
- C) Fatih Dönmez
- D) Ziya Selçuk
- E) Hulusi Akar

95. Aşağıdakilerden hangisi 2017 yılında Cumhurbaşkanlığı Kültür ve Sanat Büyük Ödüllerinin verildiği alanlardan biri değildir?

- A) Tarih
- B) Müzik
- C) Resim
- D) Futbol
- E) Sinema

96. İstanbul Boğazı'nda en son açılan köprünün adı aşağıdakilerden hangisidir?

- A) Adnan Menderes
- B) Yavuz Sultan Selim
- C) Turgut Özal
- D) Sabiha Gökçen
- E) II. Mahmut

97. Aşağıdakilerden hangisi Türk kültürüne ait unsurlardan biri değildir?

- A) Kilim dokuma
- B) Türk kahvesi
- C) Yağlı güreş
- D) Cirit
- E) Gitar

98. Aşağıda verilen şehirlerden hangilerinin arasındaki uzaklık en fazladır?

- A) İzmir – Manisa
- B) Giresun – Ordu
- C) Adana – Niğde
- D) Zonguldak – Van
- E) Mardin – Şırnak

99. Kırşehir'in Çiçekdağı ilçesinde doğan, "Gönül Dağı, Evvelim Sen Oldun, Neredesin Sen" gibi önemli türküleriyle tanınan ve abdallık geleneğinin temsilcisi olan Türk halk ozanımız aşağıdakilerden hangisidir?

- A) Hacı Taşan
- B) Neşet Ertaş
- C) Özay Gönlüm
- D) Orhan Hakalmaz
- E) Muzaffer Sarısözen

100. Aziz Sançar'ın hücrelerin hasar gören DNA'ları nasıl onardığını ve genetik bilgisini koruduğunu haritalandırması hangi alanda çalışmalar yaptığını gösterir?

- A) Spor
- B) Sanat
- C) Bilim
- D) Felsefe
- E) Siyaset

TEST BİTTİ.

CEVAPLARINIZI KONTROL EDİNİZ.

SINAV SÜRESİNCE UYULACAK KURALLAR

- 1. Adaylar, sınav kurallarına ve salon görevlilerinin tüm uyarılarına uymak zorundadırlar. Kurallara ve uyarılara uymayan adayların sınavları geçersiz sayılacaktır.**
- 2. Sınav başladıktan sonra adayların salon görevlileri ve birbirleri ile konuşmaları, kalem, silgi vb. şeyleri istemeleri yasaktır.**
- 3. Adaylar sınav süresince, sınav giriş belgesi ile birlikte geçerli kimlik belgelerinden birini (fotoğraflı nüfus cüzdanı, pasaport veya sürücü belgesini) masalarının üzerinde bulundurmamak zorundadırlar.**
- 4. Sınav evraklarını teslim etmeyen, soru kitapçıklarının sayfalarından bir kısmını eksik teslim edenlerin sınavları geçersiz sayılacaktır.**

SALON GÖREVLİLERİNCE SINAV BAŞLAMADAN ÖNCE ADAYLARA YAPILACAK SON UYARILAR

- Soracağınız bir şey varsa şimdi sorunuz, sınav başladıktan sonra sorularınıza cevap verilmeyecektir.
- Başlama zilini bekleyiniz.

Hepinize başarılar dileriz.

(Salon başkanı başlama ve bitiş saatini tahtaya yazacaktır.)

Bu kitapçığın her hakkı saklıdır. Hangi amaçla olursa olsun, kitapçığın tamamının veya bir kısmının Millî Eğitim Bakanlığı Ölçme, Değerlendirme ve Sınav Hizmetleri Genel Müdürlüğünün yazılı izni olmadan kopya edilmesi, fotoğraflarının çekilmesi, bilgisayar ortamına alınması, herhangi bir yolla çoğaltılması, yayımlanması veya başka bir amaçla kullanılması yasaktır. Bu yasağa uymayanlar, doğabilecek cezai sorumluluğu ve kitapçığın hazırlanmasındaki mali külfeti peşinen kabullenmiş sayılır.

**20 EKİM 2018 TARİHİNDE YAPILAN
EMNİYET GENEL MÜDÜRLÜĞÜ POLİS AKADEMİSİ BAŞKANLIĞI
ÇARŞI VE MAHALLE BEKÇİLİĞİ YAZILI SINAVI
A SORU KİTAPÇIĞI CEVAP ANAHTARI**

1. C	26. E	51. B	76. B
2. B	27. C	52. C	77. E
3. D	28. D	53. E	78. D
4. B	29. E	54. E	79. A
5. E	30. A	55. D	80. A
6. E	31. B	56. A	81. E
7. A	32. C	57. A	82. D
8. E	33. B	58. E	83. C
9. C	34. A	59. B	84. D
10. C	35. D	60. A	85. C
11. A	36. B	61. C	86. E
12. C	37. A	62. D	87. A
13. B	38. C	63. B	88. A
14. D	39. D	64. A	89. E
15. C	40. C	65. E	90. C
16. D	41. D	66. E	91. B
17. A	42. E	67. C	92. C
18. E	43. B	68. C	93. B
19. B	44. E	69. D	94. A
20. D	45. B	70. B	95. D
21. D	46. A	71. B	96. B
22. E	47. D	72. C	97. E
23. A	48. E	73. D	98. D
24. B	49. C	74. C	99. B
25. A	50. A	75. D	100. C